

Муниципальное образование «Гурьевский муниципальный округ»
ВСЕРОССИЙСКАЯ ОЛИМПИАДА ШКОЛЬНИКОВ ПО ОБЩЕСТВОЗНАНИЮ
(школьный этап)

2023 – 2024 учебный год

7 класс

Уважаемый участник!

При выполнении работы внимательно читайте текст заданий.

Содержание ответа вписывайте в отведённые поля, записи ведите чётко и разборчиво.

За каждый правильный ответ Вы можете получить определённое членами жюри количество баллов, не выше указанной максимальной оценки.

Сумма набранных баллов за все решённые вопросы – итог Вашей работы.
Максимальное количество баллов – 65.

Задания считаются выполненными, если Вы вовремя сдали их членам жюри.

Время на выполнение работы – 90 минут.

Желаем успеха!

1. Установите истинность или ложность суждений. Обозначьте «да» истинные суждения, «нет» – ложные. Ответы внесите в таблицу.

- 1.1. В Российской Федерации в соответствии с Конституцией возможно установление единой государственной политической идеологии.
1.2. Празднование Масленицы в современной России является примером соблюдения обычая.
1.3. В современном обществе функции семьи изменились по сравнению с семьёй доиндустриального общества.
1.4. Война может быть примером социального конфликта.
1.5. Оплата учеником услуг репетитора является примером использования денег как средства платежа

Ответ.

1.1	1.2	1.3	1.4	1.5
нет	да	нет	да	да

35

Максимум за задание – 5 баллов.

2. Что объединяет приведённые ниже понятия? Дайте максимально точный ответ.

Христианство, буддизм, ислам.

Ответ: Это религия

25

Максимум за задание – 2 балла.

3. Дайте краткое обоснование ряда (что объединяет перечисленные элементы) и укажите, какой из элементов является лишним по данному основанию.

Законодательная, федеративная, исполнительная, судебная.

Ответ: Перечисленные ветви власти. Лишним является – федеративная.

35

Максимум за задание – 3 балла.

4. Решите логическую задачу.

На уроке обществознания учитель Николай Петрович объяснял тему «Познание», в рамках которой он решил познакомить школьников с основами первой логической теории – силлогистики.

«Логическое подлежащее (субъект) – это то, о чём идёт речь в суждении; логическое сказуемое (предикат) – это то, что говорится о логическом подлежащем», – сказал учитель.

Затем Николай Петрович обратился к одному из своих слушателей, чтобы тот

помог ему продемонстрировать возможности силлогистики.

– Антон! Попробуйте поменять местами логическое подлежащее и логическое сказуемое в суждении «Ни одна рыба не является млекопитающим», – попросил Николай Петрович.

– Легко, Николай Петрович! – сказал Антон, – получится X.

– Правильно! А теперь проведите такую же операцию с суждением «Все киты являются млекопитающими».

– А это уже чуть посложнее, – замялся Антон. Подумав немного, он сказал: «Получится Y».

Запишите суждения X и Y.

Ответ: X – ни одно млекопитающее не является рыбой.
Y – млекопитающими являются киты.

68

Максимум за задание – 6 баллов.

5. Решите правовую задачу.

Из гостиницы «Счастливая Долина» была уволена администратор Татьяна Леонова, работавшая в гостинице два месяца по срочному трудовому договору.

30 июня хозяйка отеля решила уволить Леонову, так как срок её договора истекал в этот день. Через час после решения хозяйки все вещи Татьяны были собраны, вручена трудовая книжка, а двери гостиницы захлопнулись перед ней. Так как, по мнению хозяйки, Леонова имела внешность, непривлекательную для клиентов отеля, она решила не платить ей денег за отработанное время. Перечислите все нарушения прав Татьяны Леоновой, которые были допущены хозяйкой отеля. Каким нормативным документом в первую очередь регулируется порядок заключения и расторжения трудовых договоров?

Ответ: Не выплата зарплаты за первый месяц, и не выплата зарплаты за второй месяц, дискриминация по внешнему виду, моральный вред, ущемление прав работницы.

Максимум за задание – 7 баллов.

48

6. Решите экономическую задачу.

Юный любитель экономики Игорь зашёл в магазин и очень удивился. Литровая бутылка сока «Для юных экономистов» стоила 50 рублей, а двухлитровая – всего 90 рублей. Игорь решил: «Наверное, у производителей серьёзные проблемы с арифметикой! Иначе как такое возможно?» В чём экономический смысл у производителей поступать таким образом? Ответ объясните. Приведите два объяснения.

Ответ: Делая выгоднее покупать 2 литра, чем 1 м

38

компания заставляет покупать больше.

Максимум за задание – 6 баллов.

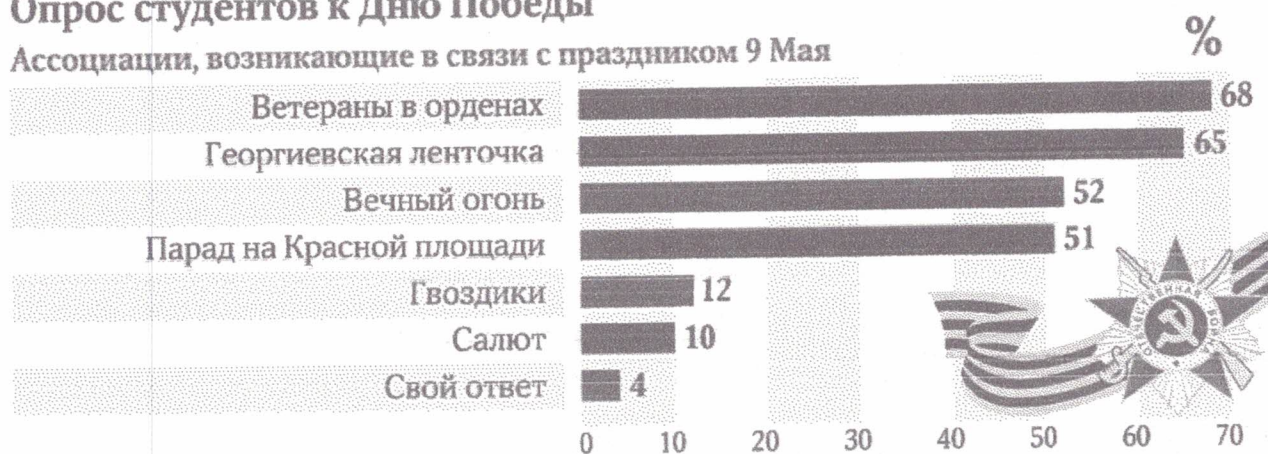
7. Ознакомьтесь с представленными материалами и выполните задания.

«Социологи оценили уровень патриотизма российской молодёжи» // Известия. 11.05.2017.

Данные опроса социологической службы показывают, что передача ценностей от поколения к поколению в современной России оказывается гораздо сильнее, чем разрыв в ценностях между поколениями. «Иваны, не помнящие родства» – это не про нашу молодёжь. Это поколение интернета, социальных сетей, клипов в основе своей наследует главные принципы и ценности своих отцов.

Опрос студентов к Дню Победы

Ассоциации, возникающие в связи с праздником 9 Мая



Основные источники информации о Великой Отечественной войне



Опрос Центра социологии студенчества и НИУ «Высшая школа экономики» проведен 28 апреля – 4 мая 2017 г. более чем в 30 регионах России.

Опрошено 7232 студента (83% – учащиеся вузов, 17% обучаются в колледжах, техникумах).

ИЗВЕСТИЯ

7.1. Проанализируйте данные опроса и напишите, кто выступает агентами социализации? Назовите пять агентов.

7.2. Используя данные опроса и личный опыт, сформулируйте, какую роль празднование 9 мая играет в социализации современного российского

студенчества.

7.3. Исходя из данных опроса назовите социальный институт, который играет наибольшую роль в формировании представлений о Великой Отечественной войне.

7.4. Используя данные опроса, подтвердите или опровергните ниже представленные утверждения, свой ответ аргументируйте.

а) «Современные студенты хорошо знакомы с символами, имеющими прямое отношение к Великой Отечественной войне».

б) Основные сведения о Великой Отечественной войне современные студенты получают из сети Интернет.

Ответ:


7.1 Ветераны в ордерах, корешковая ленточка, учебники и тетради истории, фильмы советского времени, военные ордера.

7.2 Празднование 9 мая имеет важную роль, это передача ценностей от поколения к поколению.


7.3 образование.

7.4 а) да.
б) нет.

8. Представленные изображения иллюстрируют определённое социальное явление. Назовите это явление. Распределите изображения на три группы в соответствии с разновидностями этого явления. Назовите эти группы.



70

В**Г****Д****Е**

Обобщающее понятие: деятельность.
 Ответ.

Группа 1: Учение Изображения: Б, Д.

Группа 2: Игра Изображения: В, Е.

Группа 3: Работа Изображения: А, Г.

75

Максимум за задание – 7 баллов.

9. Прочитайте текст и выполните задания.

Нынешняя, полная чудес и противоречий фаза прогресса, принесла человеку множество щедрых подарков, в то же время глубоко изменила нашу маленькую человеческую вселенную, поставила перед человеком невиданные доселе задачи и грозит ему неслыханными бедами.

Человеку сейчас, по сути дела, не остается ничего иного, как возможно быстрее приблизиться к следующей фазе своего развития – той, где он, сочетая своё могущество с достойной мудростью, научится поддерживать в гармонии и равновесии все дела человеческие. Но произойти это может только за счёт невиданной ещё цепи событий, которую я называю «человеческой

революцией».

Было бы величайшей, а возможно, и фатальной ошибкой, если бы мы именно сейчас до конца не осознали важность и настоятельную необходимость такой революции, ибо все беспорядки и кризисы нашего времени есть одновременно и причина, и следствие неприспособленности человечества к новой реальности. Проблемы демографии, безработица, неполное использование социальных и экономических возможностей общества, дефицит и нерациональное управление ресурсами, неэффективность принимаемых мер, инфляция, отсутствие безопасности и гонка вооружений, загрязнение среды и разрушение биосферы, заметное уже сегодня воздействие человека на климат и многие-многие другие проблемы, сцепившись друг с другом, подобно щупальцам гигантского спрута, опутали всю планету. Опасность столь велика и реальна, что отвести её и как-то выправить сложившееся положение можно только за счёт совместных, координированных усилий всех стран и народов. Но до сих пор, несмотря ни на какие предостережения, не предпринято никаких эффективных мер для решения хотя бы одной из этих проблем. А тем временем число нерешённых проблем растёт, они становятся все сложнее, сплетение их всё запутаннее, и их «щупальца» с возрастающей силой сжимают в своих тисках планету.

(А. Печчеи)

9.1. Используя текст и обществоведческие знания, укажите, как в современном общественном сознании называются проблемы, о которых говорит автор, приведите любые шесть из отмеченных автором проблем.

9.2. Как автор характеризует последствия общественного прогресса? (Выпишите соответствующий фрагмент текста.) Используя обществоведческие знания и факты общественной жизни, проиллюстрируйте тремя примерами данную автором характеристику прогресса.

9.3. Автор полагает, что «все беспорядки и кризисы нашего времени есть одновременно и причина, и следствие неприспособленности человечества к новой реальности». Используя обществоведческие знания и факты общественной жизни, приведите два аргумента в поддержку этой позиции.

Ответ. 9.1. Назовите проблем: глобальные проблемы современности. Проблемы: демографии, безработица, неполн. использование социальных и экономических возможностей, дефицит и не рациональное управл. ресурсами, загрязнение среды, воздействие чел. на климат.

9.2. «Мыслимая, полная чудес и противоречий гроза прогресса, принося человеку множество щедрых подарков, в то же время глубоко измучила нашу маленькую чел. вселенную поставив человеку доселе загадки, и грозит ему ужасными бедями».

155